



Rhoi

The word 'Rhoi' is written in a bubbly, rounded font. The 'R' is purple, 'h' is yellow, 'o' is green, and 'i' is cyan. A small green frog is perched on the top of the 'oi' part of the word.



đông

The word 'đông' is written in a bubbly, rounded font. The 'đ' is red, 'o' is purple, 'n' is yellow, and 'g' is cyan. A small green frog is perched on the top of the 'ông' part of the word.

“Tháp Mười nước mặn, đồng chua
Nửa mùa nắng cháy, nửa mùa nước dâng”
(Ca dao)



**Tháp Mười là một địa danh ở vùng Nam Bộ.
Em hãy cho biết câu ca dao trên nói lên điều
gì về thiên nhiên vùng Nam Bộ.**



- Câu ca dao trên phản ánh về đặc điểm thiên nhiên vùng Nam Bộ là:

- Đất đai thường bị nhiễm mặn, thiếu nước vào mùa khô.
- Khí hậu trong năm chia thành 2 mùa rõ rệt: mùa khô (nhiệt độ cao, mưa ít); mùa mưa nước lũ dâng cao, thường gây tình trạng ngập lụt.

Thứ ... ngày ... tháng ... năm ...

Lịch sử và địa lý

Bài 24

THIÊN NHIÊN VÙNG NAM BỘ



Bhám

phá

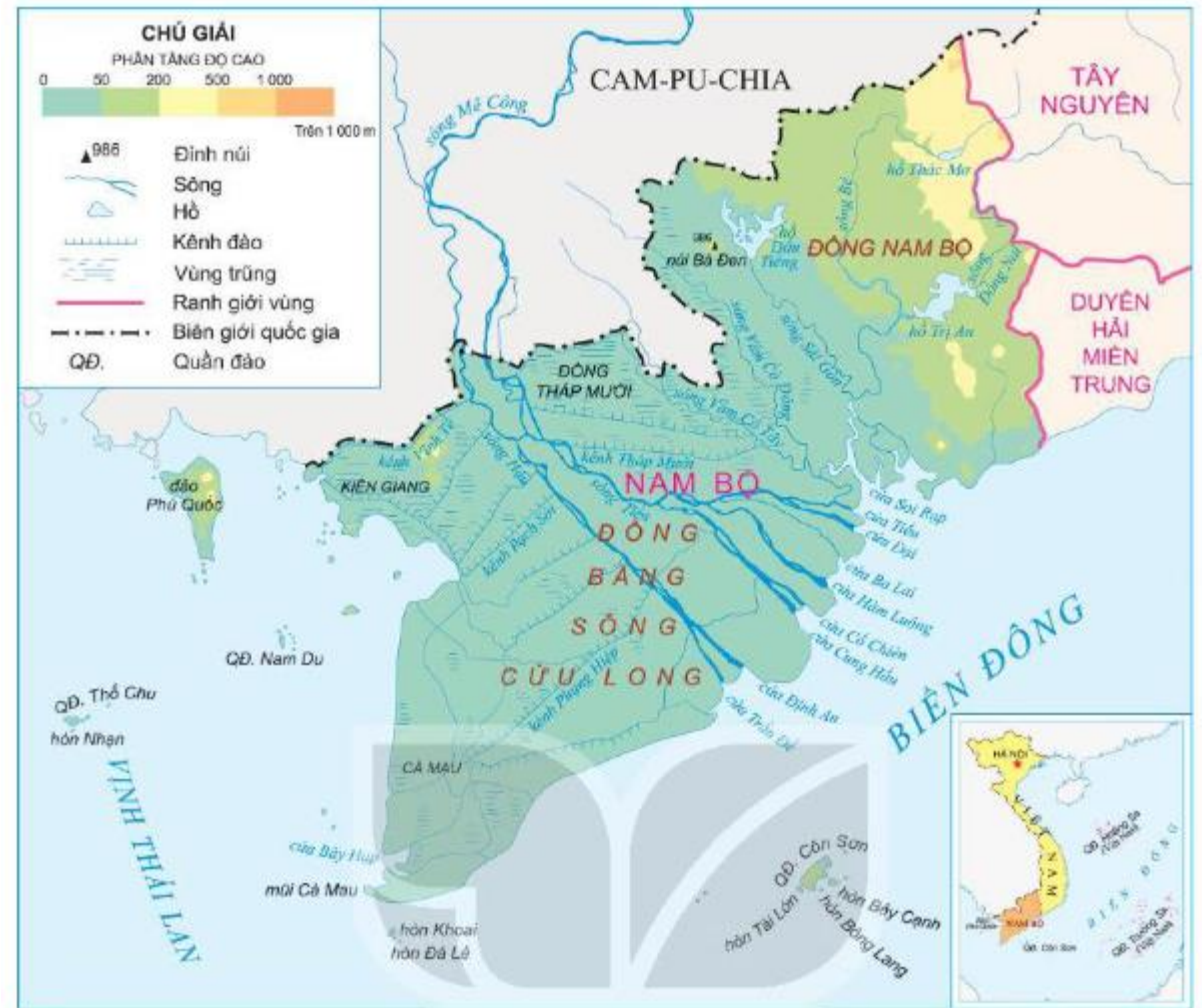


Hoạt động 1: Tìm hiểu về vị trí địa lí



Đọc thông tin và quan sát hình 1, em hãy:

- Xác định vị trí của vùng Nam Bộ trên lược đồ.
- Kể tên các vùng, quốc gia tiếp giáp với vùng Nam Bộ.

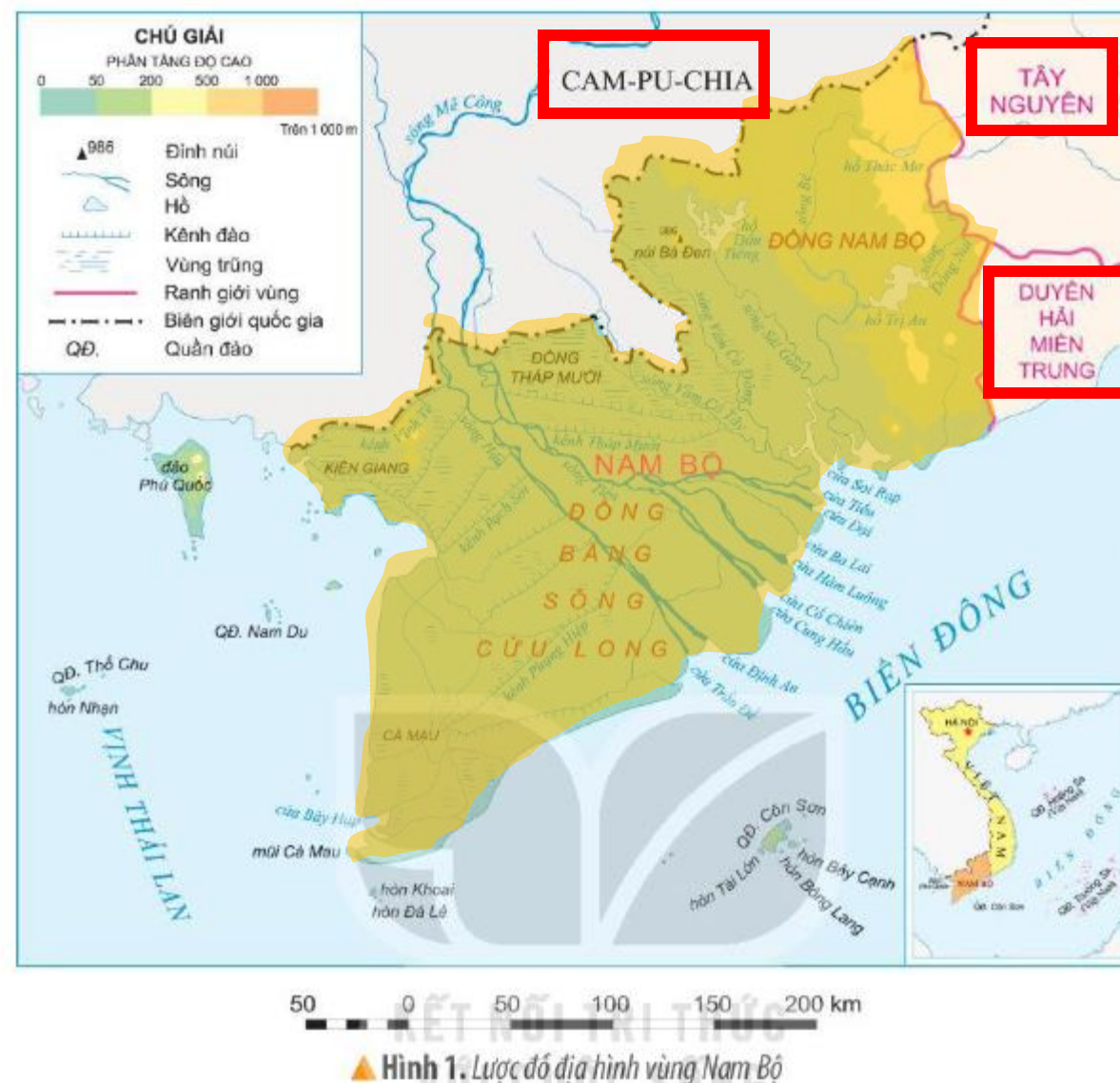


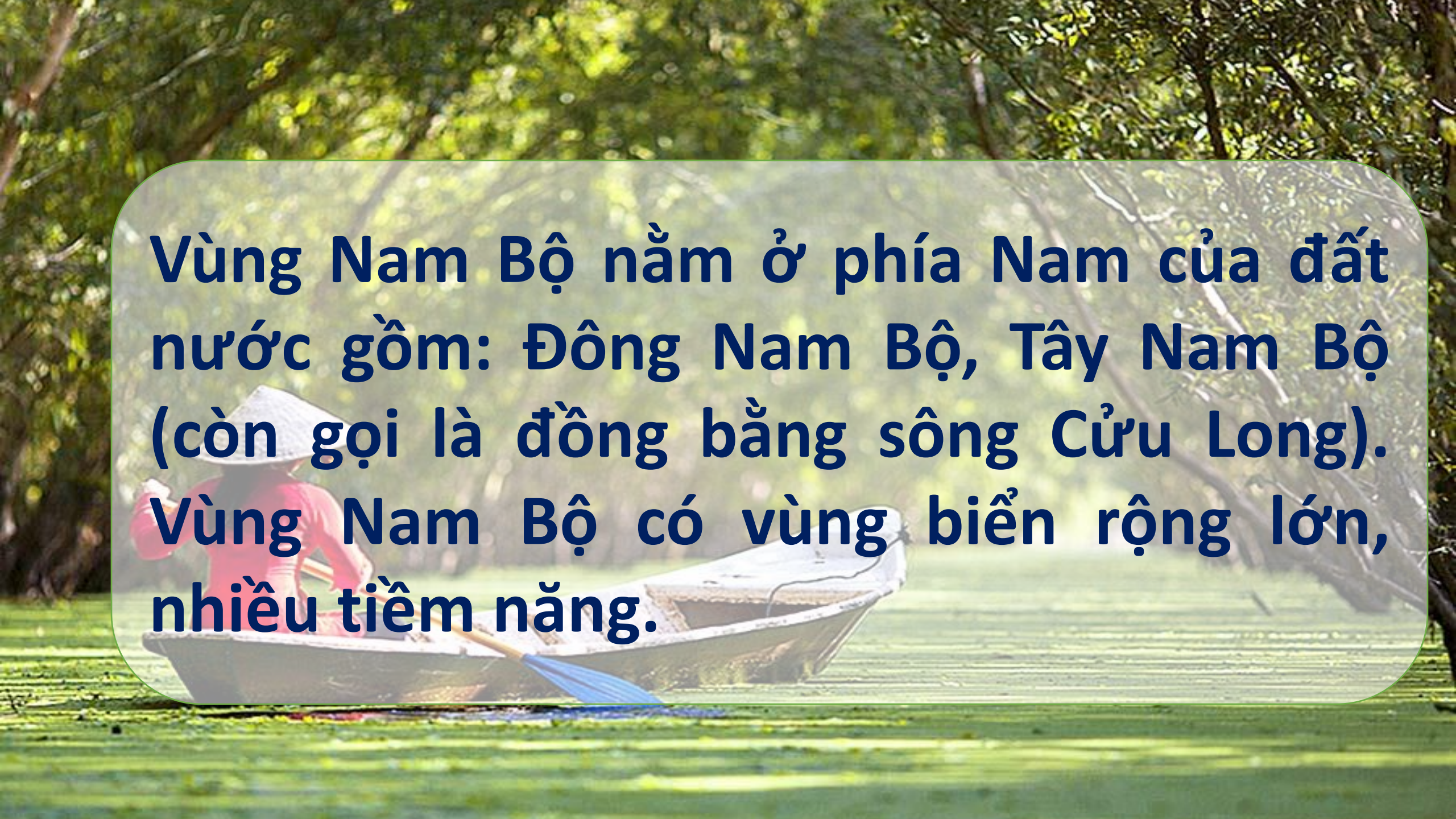
50 0 50 100 150 200 km

▲ Hình 1. Lược đồ địa hình vùng Nam Bộ

Vị trí của vùng Nam Bộ trên lược đồ.

Các vùng, quốc gia tiếp giáp với vùng Nam Bộ.





Vùng Nam Bộ nằm ở phía Nam của đất nước gồm: Đông Nam Bộ, Tây Nam Bộ (còn gọi là đồng bằng sông Cửu Long). Vùng Nam Bộ có vùng biển rộng lớn, nhiều tiềm năng.



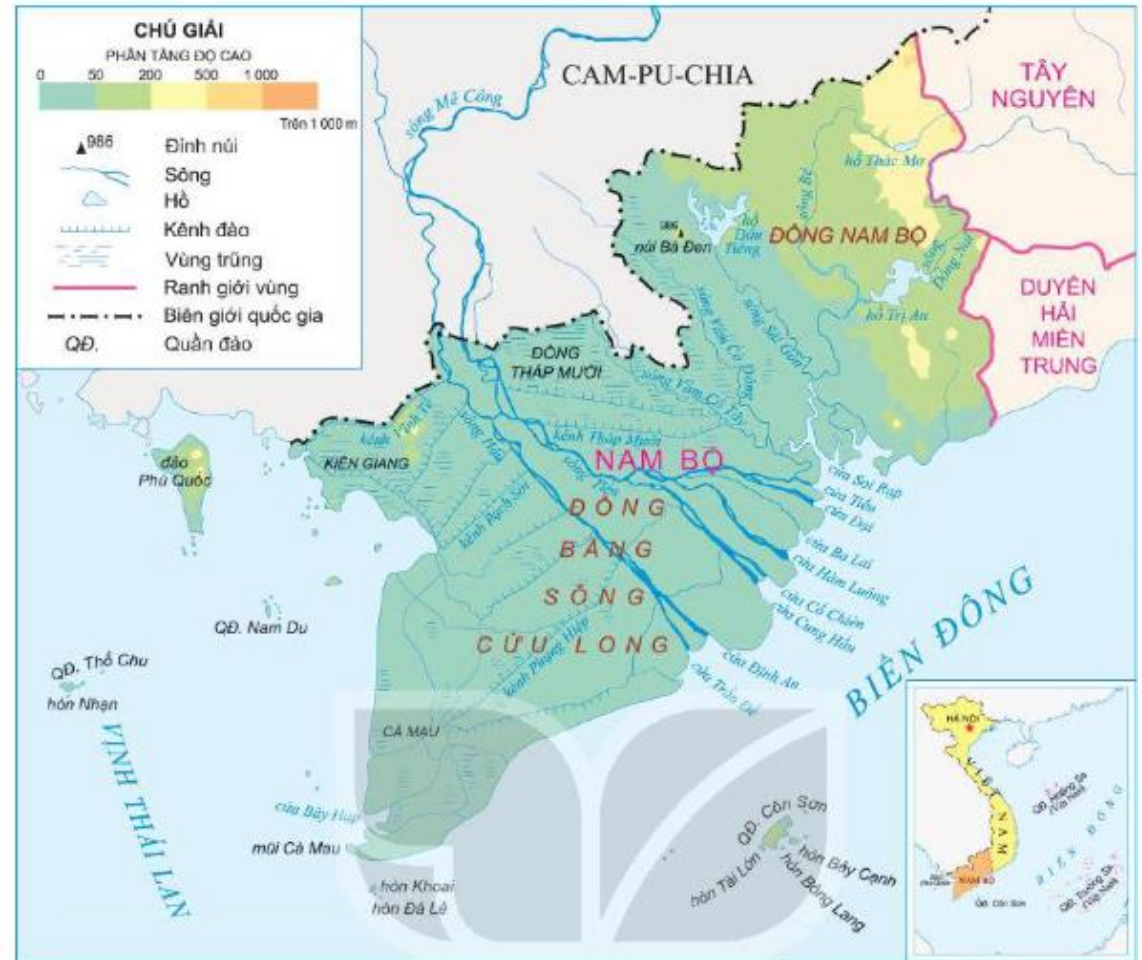
**Hoạt động 2: Tìm hiểu về đặc
điểm thiên nhiên**



a) Địa hình

Đọc thông tin và quan sát hình 1, em hãy:

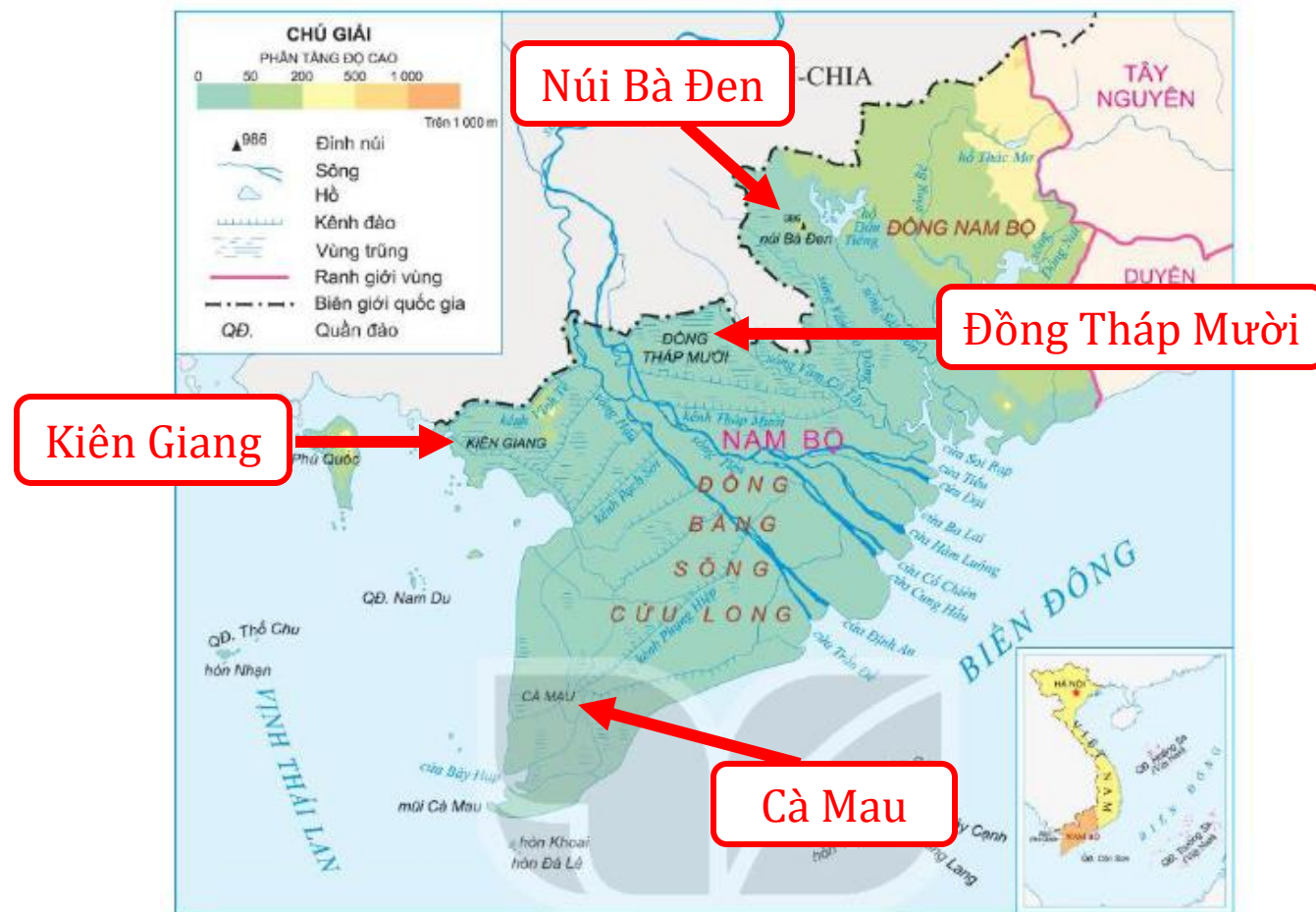
- Xác định trên lược đồ vị trí của đỉnh núi Bà Đen và các vùng trũng: Đồng Tháp Mười, Kiên Giang, Cà Mau.
- Cho biết độ cao chủ yếu của vùng Nam Bộ.



50 0 50 100 150 200 km

▲ Hình 1. Lược đồ địa hình vùng Nam Bộ

Xác định trên lược đồ vị trí của đỉnh núi Bà Đen và các vùng trũng: Đồng Tháp Mười, Kiên Giang, Cà Mau.



Hình 1. Lược đồ địa hình vùng Nam Bộ

Vùng Nam Bộ chủ yếu có địa hình đồng bằng, thấp, tương đối bằng phẳng. Độ cao chủ yếu của vùng Nam Bộ là khoảng 50 m so với mực nước biển.





Có một vùng đất xanh mát trù phú

ĐỒNG BẰNG NAM BỘ

Em có biết?

Cụm núi Bà Đen (tỉnh Tây Ninh) gồm ba ngọn núi tạo thành: núi Heo, núi Phụng và núi Bà Đen. Trong đó, đỉnh núi Bà Đen (986 m) là đỉnh núi cao nhất Nam Bộ.



b) Khí hậu



Đọc thông tin, em hãy nêu đặc điểm chính của khí hậu ở vùng Nam Bộ.



- **Vùng Nam Bộ có nhiệt độ cao, trung bình trên 27°C.**

- **Khí hậu chia thành hai mùa rõ rệt:**

- Mùa mưa từ tháng 5 đến tháng 11, mùa khô từ tháng 12 đến tháng 4 năm sau.
- Mùa khô thường mưa ít, gây ra tình trạng thiếu nước cho sinh hoạt và sản xuất.

Đwyyên

tập





**Vẽ sơ đồ tư duy thể hiện duy thể hiện
đặc điểm địa hình và khí hậu vùng
Nam Bộ.**

ĐẶC ĐIỂM THIÊN NHIÊN VÙNG NAM BỘ

Địa hình

Chủ yếu là địa hình đồng bằng, thấp, tương đối bằng phẳng.

Đồng bằng sông Cửu Long có nhiều vùng trũng, dễ ngập nước.

Khí hậu


Nhiệt độ cao. Nhiệt độ trung bình năm thường trên 27 độ C.

Khí hậu chia thành 2 mùa rõ rệt: mùa mưa (tháng 5-11) và mùa khô (tháng 12 – 4 năm sau)

Chân
đứng



Đúng ghi Đ






Sai ghi S

1. Vùng Nam Bộ chủ yếu có địa hình là núi cao

2. Độ cao chủ yếu của vùng Nam Bộ là khoảng 50 m so với mực nước biển.

3. Vùng Nam Bộ có nhiệt độ cao, trung bình trên 27°C.

4. Khí hậu ở vùng Nam bộ chia thành 4 mùa: xuân, hạ, thu, đông



TẠM BIỆT VÀ
HẸN GẶP LẠI

